

山东名校联盟 2024-2025 学年度期末教学质量检测

高三历史

本试卷满分 100 分，考试时间 90 分钟。

注意事项：

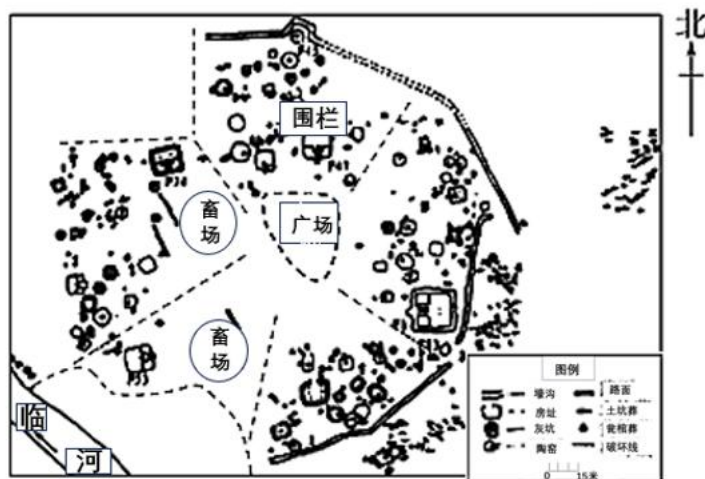
1. 答卷前，考生务必将自己的姓名、准考证号填写在答题卡上。

2. 回答选择题时，选出每小题答案后，用铅笔把答题卡上对应题目的答案标号涂黑。如需改动，用橡皮擦干净后，再选涂其他答案标号。回答非选择题时，将答案写在答题卡上。写在本试卷上无效。

3. 考试结束后，将本试卷和答题卡一并交回。

一、选择题：本题共 15 小题，每小题 3 分，共 45 分。在每小题给出的四个选项中，只有一项是符合题目要求的。

1. 如图为陕西西安临潼姜寨聚落遗址复原图，学者指出姜寨聚落展现的是氏族公社的生活状况，它有氏族公共墓地，但各个墓葬的随葬品不多，差别也不大。这反映出



- A. 父系氏族晚期的生活状态
- B. 此时处于原始人群阶段
- C. 即将迈入文明的初始形态
- D. 生产力水平的相对低下

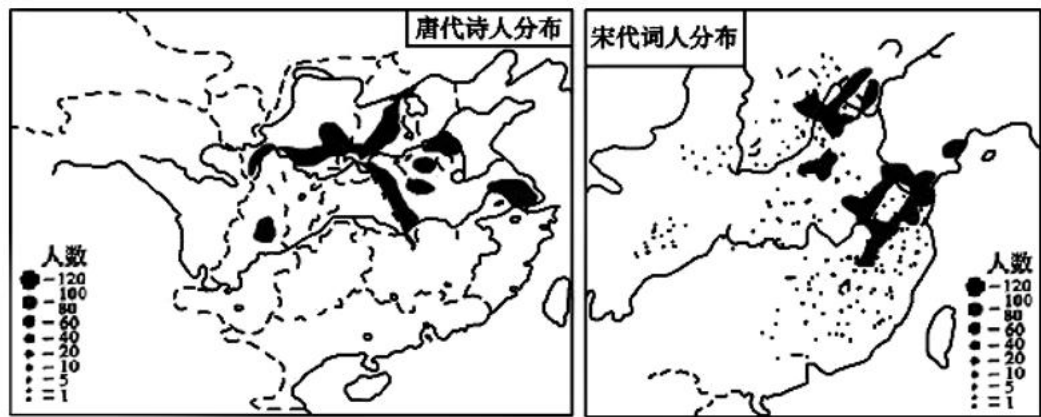
2. 战国时，“七国异族，诸侯制法，各殊习俗”，秦统一后的“移风易俗”主要针对的是东方六国。秦始皇企图用严厉的法令手段来匡饬异俗，实现文化上的大一统，由于秦“事皆决于法”“以法治俗”走向了极端，风俗与政治形成了尖锐对立，激起原东方各国的反抗。这反映出

- A. 移风易俗实现了秦朝文化上的大一统
- B. 六国的反抗是秦朝灭亡的直接原因
- C. 法家思想是秦国统一六国的理论指导
- D. 区域文化冲突加速了秦帝国的灭亡

3. 北魏在与南朝的交往中不再强调华夷之辨，而是考虑政权更替是否正当。《魏书·帝纪》记载，得知南朝齐萧鸾篡位，北魏孝文帝“遣使临江数其杀主自立之罪”。北魏此举

- A. 彰显了大一统观念
- B. 表明南北民族矛盾尖锐
- C. 凸显北魏正统地位
- D. 反映儒家思想仍居主流

4. 比较法是厘清历史现象的重要方式。下面是唐、宋两代诗人的分布变化情况示意图，这一变化



- A. 主要受政治环境变迁的影响 B. 凸显出唐宋两代经济文化的演变
C. 源于宋代海上丝绸之路兴起 D. 折射出宋代推崇重文轻武的政策
5. 据明万历《嘉兴府志》记载，当地四时土俗：小满时节，家家关门闭户，叫做“蚕关门”。直到采茧时，才开禁，亲戚之间才可以互相走动，叫做“蚕开门”。七月十五日的中元节，有盂兰会、水陆道场、翻经会，乡人以为此类活动“利于蚕花”，趋之若鹜。据此可知当地
- A. 农耕技术呈现衰退趋势 B. 传统经济结构发生变化
C. 小农经济已经开始瓦解 D. 风俗民情迷信色彩浓厚
6. 从乾隆朝开始有了“天朝体制”的外交用语。据《清实录》统计，带有“天朝体制”术语的 40 篇敕谕中，乾隆帝有 23 篇，嘉庆帝有 2 篇，道光帝有 11 篇，咸丰帝有 4 篇。该术语在咸丰十年（1860 年）以后就从清朝皇帝的敕谕中消失了。这反映了
- A. 传统的宗藩体系走向解体 B. 时局的演变影响外交理念
C. 天朝上国的迷梦彻底破灭 D. 晚清外交逐渐与国际接轨
7. 下表是晚清《申报》部分体育版块评论标题。这体现出当时

日期	评论标题
1873.4.26	龙舟竞渡说
1873.10.27	论西人猎纸及驰马堕涧事
1879.5.13	论西人赛马之盛
1879.12.1	操练营兵末谈
1880.1.2	论武员偏见
1880.3.7	论日人教战会
1880.11.3	论跑马
1881.3.20	中西文武轻重不同说
1881.3.29	原重文轻武之俗
1882.2.10	论学习西法水师可以选用武员
1882.3.3	观打弹记
1882.10.23	论武试略为变通

- A. 强兵御侮的体育观 B. 西式教育的发展
C. 新闻报道的时效性 D. 军事体制的改革


8. 晚清时期，歌谣体童蒙读物《最新妇孺唱歌书》中写道：“万国通商口岸通，铁车轮舶疾如风。洲名澳亚欧非美，人种棕黄黑白红。世界群推老帝国，舞台谁是主人翁。诸君准备新人格，革命风潮逼远东。”这首歌谣

- A. 可能出现于洋务运动中
- B. 反映出国人抛弃了改良道路
- C. 可能是立宪派的宣传品
- D. 反映出清末西学东渐的深化

9. 中华苏维埃共和国临时中央政府成立以后，中央政府高度重视钨矿开采及招商工作，准许私人资本承租开采，引进白区私商开采。通过中央政府自主开采和引进私人资本，苏区钨矿贸易不断发展壮大。此举旨在

- A. 尝试建立完备的产业体系
- B. 建立新民主主义经济体制
- C. 服务苏区物资保障的大局
- D. 利用多种所有制经济形式

10. 下图为新中国初期创作的漫画《照样的阴谋》。该漫画



- A. 抨击了美国孤立中国的霸权行径
- B. 旨在控诉日本帝国主义的罪行
- C. 坚定了民众保家卫国的必胜信念
- D. 说明美苏冷战重心转移到亚洲

11. 12 世纪，英国国王亨利二世授予的特许状中规定：免除市民各项封建赋税；市民将自由地成立自己的商业行会组织；免除市民在自治城市之外的所有审判，当地城市法庭拥有审判权；获得选举其市长的权利。特许状的颁布

- A. 说明城市实现了自治独立
- B. 有助于资本主义经济发展
- C. 旨在推动城市的崛起发展
- D. 授予市民一定程度的自由

12. 中世纪西欧的庄园制，其形成过程有三个阶段，如下表所示。这可用于说明当时西欧

时间	性质	来源
6 世纪末	自主地	由祖上继承而来，是有完全所有权的地
8-9 世纪	终身采邑	封臣从封主手里以优惠条件或免费方式获得，限终身享用，以服军役回报封主
9 世纪末 10 世纪初	世袭采邑	由终身采邑转变而来，封臣以效忠和提供军役形式持有，可以继承

- A. 封臣地位逐步提高
- B. 封建社会走向稳定
- C. 国王权力得到强化
- D. 商品经济趋向繁荣

13. 在哥伦布等航海家探险以后，与以往不同的物种交流出现，有学者称之为“哥伦布大交换”。美洲的作物在欧、亚、非洲生根发芽，小麦、马、猪等从欧洲来到美洲，美洲文明孤立发展的历史从此结束。据此可知，“哥伦布大交换”

- A. 导致世界商贸中心发生转移
- B. 推动了世界历史的整体化进程
- C. 壮大了商业资产阶级的力量
- D. 促进了资本主义世界市场形成

14. 1893 年，恩格斯在《致保尔·拉法格》一文中写道：“如果法国——可能如此——发出（革命的）信号，但斗争的结局将决定于……德国；而只要英国还掌握在资产阶级手中，那么即便法国和德国都不能保证最终赢得胜利。”他意在强调

- A. 无产阶级革命的重要性
- B. 工人斗争应突破民族国家范围
- C. 社会主义实现的必然性
- D. 西欧国家阶级矛盾呈现不平衡

15. 下表为 20 世纪 40—90 年代联合国召开的关于环境问题的部分国际会议。据此可知

时间	地点	会议
1949	美国累克—赛克赛斯	国际自然科学保护会议
1958	瑞士日内瓦	世界海洋法会议，协商保护海洋资源问题
1968	法国巴黎	关于合理利用和保护生物圈的专家会议
1972	瑞典斯德哥尔摩	人类环境会议，通过了《人类环境宣言》
1992	巴西里约热内卢	环境与发展大会，通过了《里约环境与发展宣言》

- A. 环境问题与工业化发展密切相关
- B. 全球生态环境呈不断恶化的趋势
- C. 环境问题的解决需要国际性合作
- D. 环境问题已引起有识之士的重视

二、非选择题：本题共 4 小题，共 55 分。

16. 阅读材料，完成下列要求。

材料一 某学者在研究两宋时期的经济时，拟定了如下目录(部分)：

“碌碌有为”的宋人

第一章 北民南迁的耕耘——农业

.....

第二章 百工巧匠的智慧——手工业

.....

第三章 熙来攘往的贾客——商业贸易

第一节 互市贸易的商旅——榷场贸易

第二节 海丝之路的船舶——海外贸易

第四章 _____

(1)请按照上述格式，将第四章的标题补充上去，并结合史实对其具体表现进行说明。

材料二 每当人们在中国的文献中查找一种具体的科技史料时，往往会发现它的焦点在宋代，不管在应用科学方面还是在纯粹科学方面都是如此。…中国的科技发展到宋朝，已呈巅峰状态。在许多方面实际上已经超过了18世纪中叶工业革命前的英国或欧洲的水平。

——摘自李约瑟（英国）《中国科学技术史》

材料三

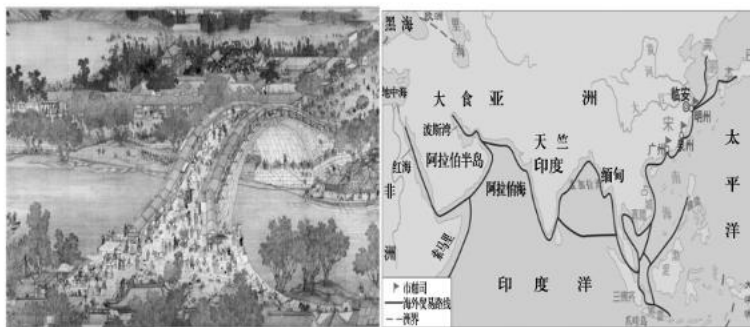


图1 宋·张择端《清明上河图》

图2 宋代海外贸易路线图

材料四 宋代初年，科举制对商人在事实上已经没有多少禁锢。特别是到了英宗年间，朝廷更是下诏：“工商杂类，有奇才异行、卓然不群者，亦许解送。”等于说国家从法律上，制度上承认了商人的入仕权。至此，科举制度成为了普通民众实现向上流动的阶梯和重要管道，苏辙于熙宁二年（1069年）上书言：“凡今农工商贾之家，未有不舍其旧而为士者也。”只要“诵文书，习程课”，商人也可读书做官。

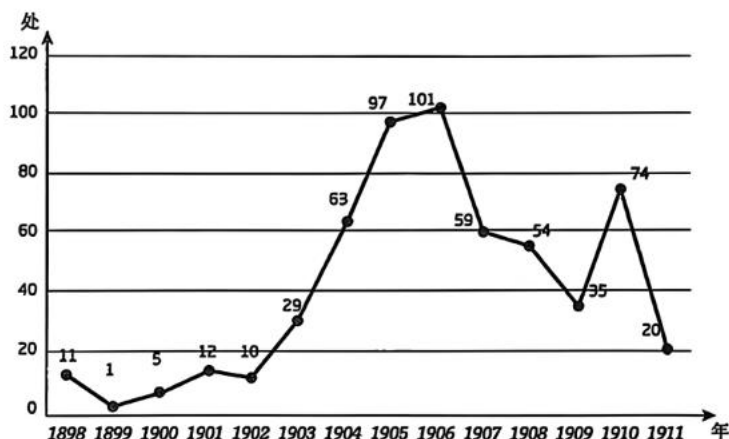
——摘自冯芸、桂立《科举制下宋代商人的社会流动及“士商对流”的出现》

(2)陈寅恪先生曾说：“华夏民族之文化，历数千载之演进，造极于赵宋之世”。根据上述材料并结合所学知识，谈谈你对陈寅恪先生这句话的理解。

17. 阅读材料，回答问题。

材料 某历史兴趣小组以“19世纪末20世纪初中国社会发展与阅报社”为课题开展研究性学习，在学习过程中使用了以下材料。

甲：清末阅报社创办情况图



注：该图表中共有571处阅报社，因有21处成立时间不明，故未列入。

——摘编自徐明涛《清末阅报社考察（1898-1911）》

乙：据统计，阅报社有正式社名的共有78处，出现频率最高的八个字如表所示。

清末阅报社名字频次表

字	益	智	新	爱	群	开	明	闻
频次	12	11	9	8	6	6	6	5

——徐明涛《清末阅报社考察（1898-1911）》

丙：王子贞原本在西单牌楼甘石桥附近经营尚友照相馆，因感念国力维艰、民智不开，创办尚友阅报处。他在一次社内的演说中指出，清政府在《辛丑条约》中需要赔偿列强之款甚巨……不如“每人每均摊，几天的功夫，就差不多了”。称请民众“自己问自己，是中国人不是”，“同国人叫作同胞，都是黄帝的子孙，满蒙汉……是同气连枝”。王子贞的演说得到了北京骡马市讲报说书处、西城阅报处等阅报处、讲报所的响应，他们都参与到了对“国民捐”运动的宣传中。随后，运动得到全国各地民众的支持。

——摘编自彭冉《从启蒙到规训：中国近代阅报社研究（1898-1937）》

(1)根据材料甲、乙，围绕研究课题，兴趣小组可以得出怎样的结论，并说明理由。

(2)你认为材料丙能否论证问题（1）的结论，请说明理由。

18. 阅读材料，完成下列要求。

1949-1966年，中国共产党领导人民采取多种方式纪念十月革命。这既是对建党以来传统做法的延续，又呈现出新的特色。这个过程在《人民日报》的报道中有着生动具体的呈现。

时间	十月革命纪念活动的形式、内容和特点
1949—1952年	这一阶段十月革命纪念活动规格较高、规模较大、宣传较广。从增加报刊发文数量到规范宣传计划、加强组织力度和扩大宣传范围，从情理兼具的文字报道到广播、展览、电影等丰富形式，十月革命纪念活动越来越隆重，逐步形成了若干规范或惯例
1953—1959年	前三年对十月革命的纪念规模有所下降，1955年，在《人民日报》纪念十月革命的相关文章仅有12篇，内容逐渐转向歌颂马克思列宁主义在社会主义发展中的重要作用和中国国内的发展成就；1956年的纪念活动略有恢复，后来几年里，仍对苏联成就略有强调，但主要目的是彰显十月革命纪念的国际意义
1960—1966年	这一阶段十月革命纪念活动规范性下降，纪念的热度也有所下降；纪念内容从宣扬中苏携手建设社会主义逐渐转向彰显中国道路是社会主义发展的正确道路，中国共产党是马克思列宁主义、“十月革命精神”的真正继承人，而苏联却逐渐走向修正主义

结合表格材料与所学知识，谈谈你对十月革命纪念活动“这既是对建党以来传统做法的延续，又呈现出新的特色”的理解。

19. 阅读材料，回答问题。

拉美现代化

材料一：19世纪末，最早融入全球化、独立半个世纪之久的拉头，在个别地方开始尝试工业化，却少有成就，半殖民地化日益加深。

进入20世纪后，由墨西哥革命首举革命民族主义旗帜，拉美各国在凯恩斯主义和拉美经委会发展主义理论的指引下，开始了一个生气勃勃的、以进口替代工业化为中心的现代化进程，墨西哥和巴西都曾创造过经济奇迹，拉美的现代化取得了史无前例的重要进展。

从20世纪80年代开始，特别是80年代末东欧剧变、苏联解体之后，“经济全球化”狂飙突起，在拉美掀起了反凯恩斯主义的“革命”，新自由主义改革席卷拉美，原来生气勃勃的现代化运动僵旗息鼓，现代化进程变成了非工业进程。到20世纪90年代，出现了一系列经济危机和政治危机。

——摘编自曾昭耀《经济全球化与拉美国家的现代化》

材料二：现在的世界地图已经铸就成一个由中心的“坚固建筑物”和外围的不发达“可变地域”所构成的模式，在那里，只容许每个依附国家在外围状况上有所改变，其根本的依附地位是不容变化的。

——(阿根廷)克劳迪奥·卡茨

提取材料信息，以“现代化·全球化”为题写一则历史短文。(要求：表述成文，叙述完整；立论正确，史论结合；逻辑严密，条理清晰)